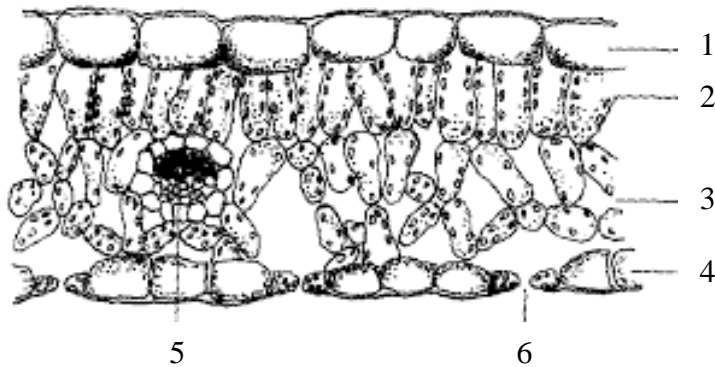


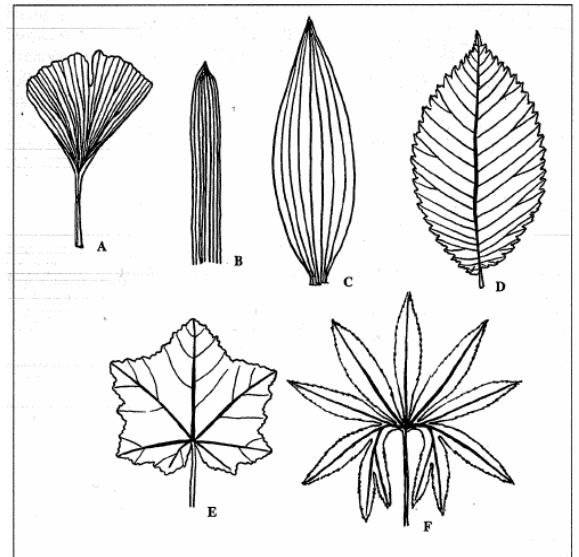
List

- 1) Jaký je hlavní význam listu pro rostlinu?
- 2) Popište různé typy listů a u každého typu uveďte příklad rostliny.
- 3) Podle obrázku A popište příčný řez listu.
- 4) Nakreslete a popište varianty postavení listů na stonku (4 varianty).
- 5) Jaký význam má žilnatina listů?
- 6) Podle obrázku B popište typy žilnatiny listů
- 7) Podle obrázku C popište různé typy složených listů.
- 8) Jaké další funkce mohou mít listy a jaké může mít list přeměny?

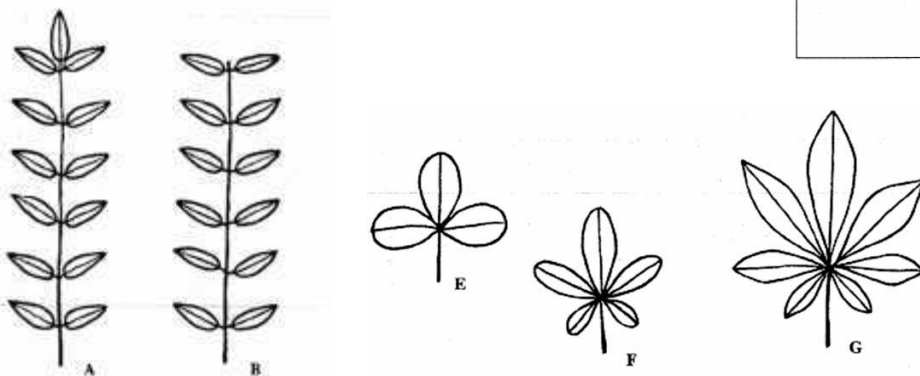
A Příčný řez listem



B. Typy žilnatiny




C Složené listy




Přeměny listu

Listové úponky hrachu



Šupiny na stvolu podbělu



Listeny pod květenstvím – vánoční hvězda



Anthurium




Cibule – dužnaté listy se zásobní funkcí na zkráceném stonku



Sukulentní listy aloe



Kaktus – sukulentní stoněk s trny listového původu



Trny dřívěálu

